

# RALLYES-JEUX PARTHENAY-GÂTINE



**6 PARCOURS  
LUDIQUES  
EN GÂTINE**



**VILLES  
& PAYS  
D'ART &  
D'HISTOIRE  
À DIRE**

**Conception graphique :** d'après DES SIGNES studio Muchir

**Réalisation :** Service Patrimoine de la Communauté de communes de Parthenay-Gâtine

**Illustrations :** Vert Framboise 06 09 58 65 94, Esprit Pub 06 84 23 99 53

**Crédits photographiques :** Communauté de communes de Parthenay-Gâtine,  
Musée d'Art et d'Histoire de Parthenay

**Impression :** RAYNAUD Imprimeurs

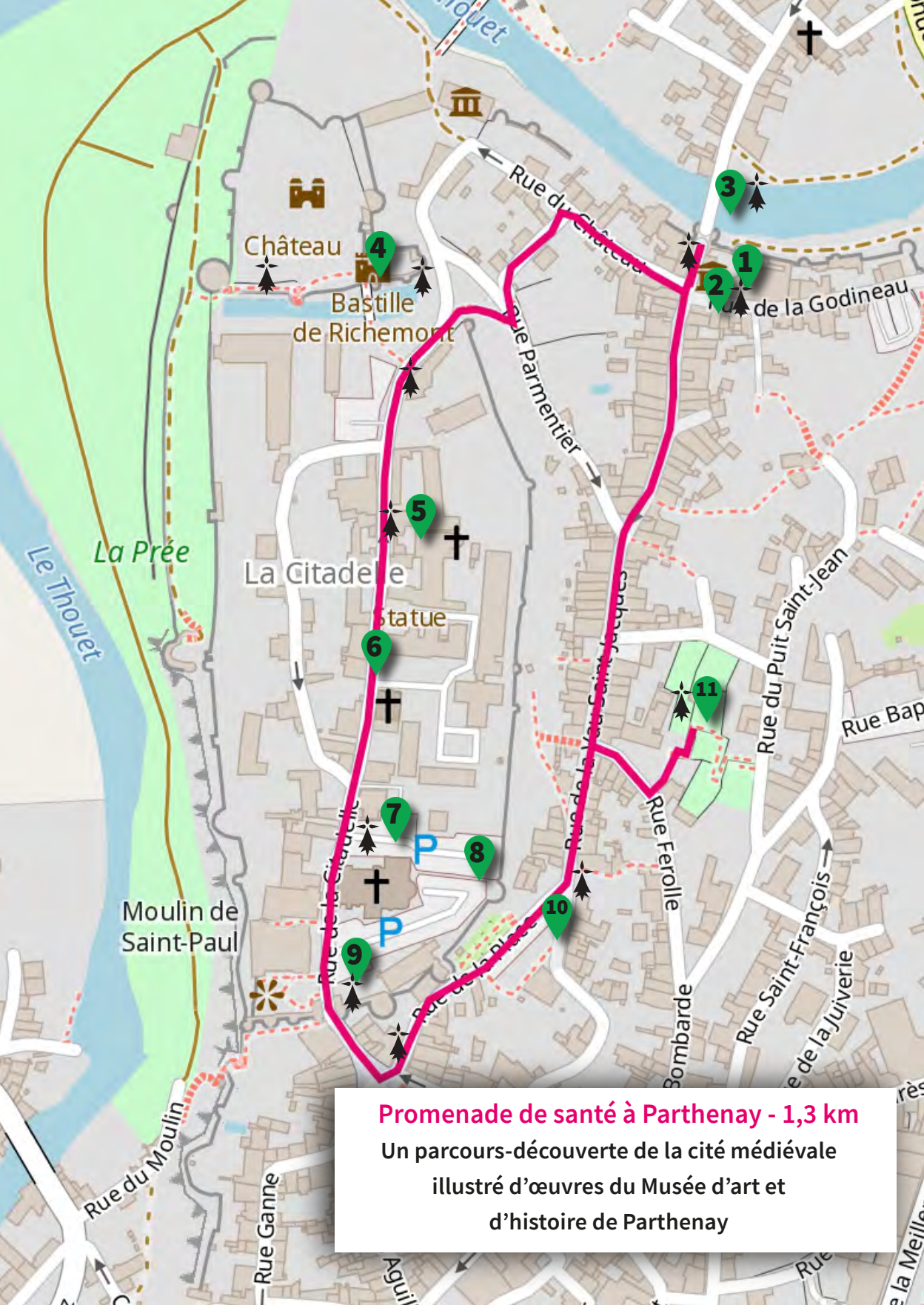
# SOMMAIRE

<b>Promenade de santé à Parthenay</b>	<b>4</b>
<b>Parthenay, de rues en venelles</b>	<b>7</b>
<b>Au fil du Thouet à Parthenay</b>	<b>10</b>
<b>Gourgé au fil du temps</b>	<b>14</b>
<b>Secondigny, un patrimoine à croquer !</b>	<b>18</b>
<b>Le patrimoine de Ménigoute à vol d'oiseau</b>	<b>22</b>



- En famille ou entre amis, une découverte ludique du patrimoine de Parthenay-Gâtine !
- **En vert, des questions de niveau facile, basées avant tout sur l'observation.**
- **En rose, des questions de niveau difficile, nécessitant souvent d'aller chercher l'information dans la signalétique (🗺️) .**

**Petits et grands, amusez-vous bien !**



### Promenade de santé à Parthenay - 1,3 km

Un parcours-découverte de la cité médiévale  
illustré d'œuvres du Musée d'art et  
d'histoire de Parthenay



# Promenade de santé à Parthenay

## 1- MUSÉE

Retrouve cette sculpture parmi les collections du musée. Quels animaux y trouve-t-on ?

- A- Bélier     
  B- Chien     
  C- Coq     
  D- Cheval     
  E- Âne

De quel édifice cette copie est-elle issue ? .....



## 2- MUSÉE

En poursuivant ta déambulation, retrouve les plaques des « Quatre Saisons » au 2<sup>ème</sup> étage.

Sur quelle « saison » voit-on une grappe de raisin ? .....

Ces plaques créées par Prosper Jouneau sont en porcelaine. Comment s'appelle le faïencier qui a réalisé celle nommée « Léda et le cygne » ? .....



## 3- PORTE SAINT-JACQUES

Sur la partie centrale (entre les tours), compte les trous de mâchicoulis visibles en haut de la porte : .....

Combien d'autres portes de ville, détruites au XIX<sup>e</sup> siècle, existaient autrefois ? .....

## 4- CHÂTEAU DE PARTHENAY

Combien de portes permettaient d'entrer dans la tour de la Poudrière au Moyen Âge (au 1<sup>er</sup> étage, depuis le chemin de ronde) ?.....

Qui a aidé financièrement les seigneurs de Parthenay à bâtir ce château fort au début du XIII<sup>e</sup> siècle ?

- A- Le roi de France Philippe-Auguste     
  B- Les ducs d'Aquitaine  
 C- Les comtes d'Anjou     
  D- Le roi d'Angleterre Jean sans Terre

## 5- NOTRE-DAME-DE-LA-COULDRE

Au-dessus du portail central, sont sculptés les Vieillards de l'Apocalypse.

Combien en comptes-tu ? .....

Que représentait le groupe sculpté qui se situait en partie gauche de cette façade d'église ?

- A- Le combat de Samson contre le lion     
  B- Un cavalier  
 C- L'Annonciation



## 6- RUE DE LA CITADELLE

Trouve ce blason du duc de La Meilleraye, seigneur de Parthenay, sur la façade d'une des maisons.

Numéro de la maison : .....

À proximité se trouve l'ancien hôpital, installé dans la Citadelle du XVII<sup>e</sup> à la fin du XX<sup>e</sup> siècle. Le bâtiment principal est un pavillon qui a été construit en 1897. Quel nom porte-t-il ?

.....



## 7- ÉGLISE SAINTE-CROIX

Quel animal imaginaire sculpté vois-tu au-dessus de l'une des portes d'entrée de l'église Sainte-Croix ?

- A- Un griffon mi-aigle mi-lion
- B- Un capricorne mi-poisson mi-chèvre
- C- Une sirène mi-homme mi-oiseau

Quel seigneur de Parthenay a fait construire au XV<sup>e</sup> siècle la tour-clocher de cette église ?

- A- Guillaume IV
- B- Jean II
- C- Arthur de Richemont



## 8- QUARTIER SAINT-JACQUES

De quelle couleur étaient les draps confectionnés à Parthenay ? .....

Quels étaient les principaux artisans qui vivaient et travaillaient autrefois dans ces maisons à pans de bois ?

- A- Des tanneurs
- B- Des tisserands
- C- Des forgerons



## 9- PORTE DE LA CITADELLE

Observe la porte de la Citadelle. Quelle est la forme de ses deux tours ?

- A- Ronde
- B- Carrée
- C- En amande

Quelle a été la 1<sup>ère</sup> fonction de ce bâtiment à la façade néoclassique qui sert aujourd'hui de médiathèque ?

- A- Musée
- B- Hôtel de ville
- C- École de dessin



Statue de saint Jacques, bois polychrome, XVII<sup>e</sup>-XVIII<sup>e</sup> siècle

## 10- PLACE DU VAUVERT

Observe la statue de Pèlerin. Quels sont les attributs des pèlerins se rendant à Compostelle ?

- A- La besace pour transporter les victuailles
- B- Le bourdon (bâton) pour marcher
- C- Le chapeau pour se protéger du soleil
- D- La gourde pour boire

Cette place était autrefois le lieu d'un marché aux bestiaux. De quelle couleur est la robe de la vache parthenaise ?

- A- Brun clair
- B- Tachetée noir et blanc
- C- Blanche

## 11- JARDIN FÉROLLE

Quelle plante à l'odeur de citronnelle, utilisée pour ses capacités apaisantes dès le Moyen Âge, se trouve à gauche du romarin officinal dans le jardin des simples ? .....

Dans le potager, cherche la menthe coq et frotte un peu l'une ses feuilles entre tes doigts. À quoi son odeur te fait-elle penser ?

- A- Volaille grillée
- B- Noisette
- C- Chlorophylle



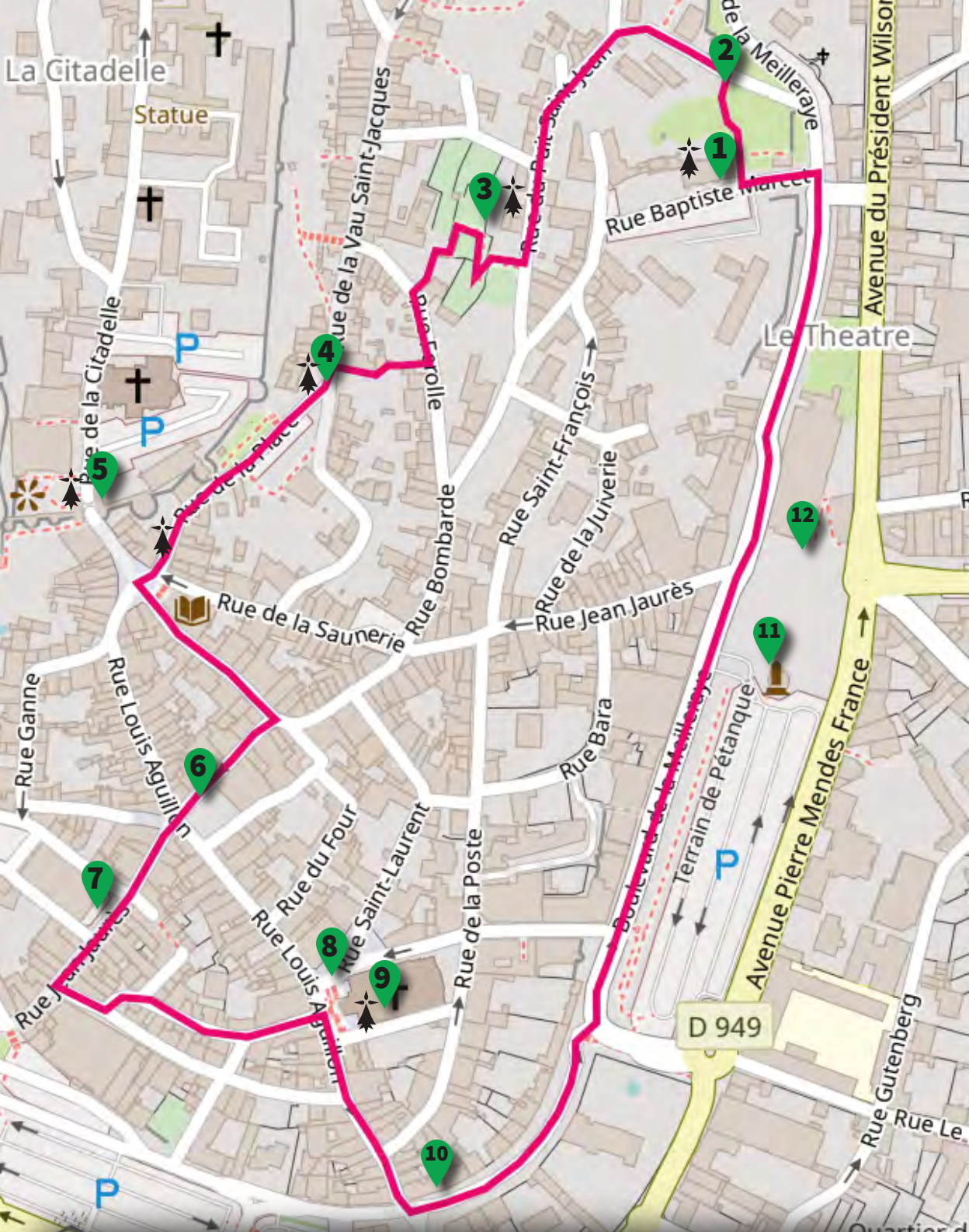
## 12- RUE DE LA VAU SAINT-JACQUES

Combien de croix comptes-tu sur la façade de la maison n°73 ? .....

Dans cette rue, la maison n°56 présente un décor sculpté au-dessus de la porte d'entrée. Comment appelle-t-on ce type de décor ?


- A- Une parenthèse
- B- Une accolade
- C- Un accent circonflexe





Plan « Parthenay, de rues en venelles » - 1,8 km

# Parthenay, de rues en venelles



## 1- CHAPELLE DES CORDELIERS

Quel est le style architectural de cette chapelle, construite au milieu du XIII<sup>e</sup> siècle ?

- A- Roman                       B- Gothique                       C- Baroque

Ses vitraux évoquent la corde nouée autour de l'habit des moines qui vivaient ici dans un prieuré. Qui étaient ces moines, aussi appelés les « Cordeliers » ?

- A- Les Dominicains                       B- Les Cisterciens                       C- Les Franciscains

## 2- RUE DU Puits SAINT-JEAN

Avec quelle pierre locale ont été construits les remparts de Parthenay ?

- A- Du granite (pierre grise)     B- Du tuffeau (pierre blanche)  
 C- De la brique                       D- Du schiste

Inauguré en 1882, le viaduc ferroviaire qui franchit le Thouet comporte huit arches en pierre. Comment s'appelle la partie métallique au centre ?     A- Plateau                       B- Tablier                       C- Toque

## 3- JARDIN FÉROLLE

Dans le verger du jardin Férolle, quel arbre fruitier est taillé en espalier, en forme de fourche ? .....

Dans le potager se trouve de la garance, une plante tinctoriale autrefois utilisée pour teindre les tissus. Quelle couleur ses racines permettent-elles d'obtenir ?     A- Bleu                       B- Rouge                       C- Jaune

## 4- PLACE DU VAUVERT

Combien de têtes a cette statue de Pèlerin ? .....

Cette place était autrefois le lieu d'un marché aux bestiaux. En quelle année la vache de race parthenaise a-t-elle obtenu le Label Rouge ? .....

## 5- PORTE DE LA CITADELLE

La porte de la Citadelle a été construite au début du XIII<sup>e</sup> siècle. Lesquelles de ces armes ne pouvaient pas être utilisées par les gardes postés derrière ses archères ?

- A- Des arcs                       B- Des arbalètes                       C- Des canons

Face à la porte de la Citadelle se trouve la médiathèque. De quel style sont les colonnes soutenant le balcon à l'avant de sa façade néoclassique ?

- A- Dorique                       B- Ionique                       C- Corinthien



## 6- PLACE DES BANCs

Sur cette place se trouve le plus ancien commerce de Parthenay qui existe encore, ouvert depuis les années 1840-1850. Quel est son nom ?

- A- Le Grand Café     B- Le Café des Arts     C- Le Café de Flore

Pourquoi cette place est-elle appelée place des Bancs ?

- A- Pour les bancs qui permettaient de s'y asseoir  
 B- Pour les bancs sur lesquels les banquiers y travaillaient  
 C- Pour les bancs sur lesquels la viande des bouchers y était coupée



## 7- LES HALLES

Trouve l'endroit où cette photographie ancienne a été prise.

Quel architecte a réalisé à partir de 1852 les halles parisiennes ayant servi de modèle à celles-ci, inaugurées en 1882, alliant métal, brique et verre ?

- A- Viollet-le-Duc       B- Victor Baltard       C- Charles Garnier



## 8- L'ÉGLISE SAINT-LAURENT (Extérieur)

Quel type de construction, visible de très loin, surmonte le porche d'entrée de l'église Saint-Laurent depuis le XIX<sup>e</sup> siècle ?

- A- Une flèche       B- Un clocher       C- Un beffroi

Modifiée au fil des siècles, cette église qui domine Parthenay est une des plus anciennes de la ville. À quel siècle remonte sa construction primitive ?

- A- X<sup>e</sup> siècle       B- XI<sup>e</sup> siècle       C- XII<sup>e</sup> siècle



## 9- L'ÉGLISE SAINT-LAURENT (Intérieur)

Observe les beaux vitraux de cette église. Quatre d'entre eux sont signés. Par quel maître-verrier ont-ils été réalisés ?

- A- Fournier de Tours       B- Lobin de Tours  
 C- Dagrang de Bordeaux       D- Simon-Marcq de Reims

Dans le chœur, une peinture représente la conversion du duc d'Aquitaine par Bernard de Clairvaux, à Parthenay. Devant quelle église s'est déroulée cette scène ?

- A- Sainte-Croix       B- Saint-Jean  
 C- Notre-Dame-de-la-Couldre       D- Saint-Jacques

## 10- PLACE DU ???

Comment s'appelle cette place ? .....

Pourquoi cette place s'appelle-t-elle ainsi ?

- A- Une porte fortifiée était ici précédée d'une vaste barbacane, communément appelée « le donjon ».  
 B- Le premier château des seigneurs de Parthenay se trouvait ici.  
 C- Une tour enfermant une princesse existait ici.

## 11- PLACE DU DRAPEAU

Sur la place du Drapeau, quel motif se répète en haut du kiosque à musique ?

- A- Le drapeau français       B- Le blason de Parthenay       C- La cocarde républicaine

En haut de cette place se trouve l'hôtel de la sous-préfecture, construit entre 1868 et 1870. En quel matériau est sa toiture ? .....

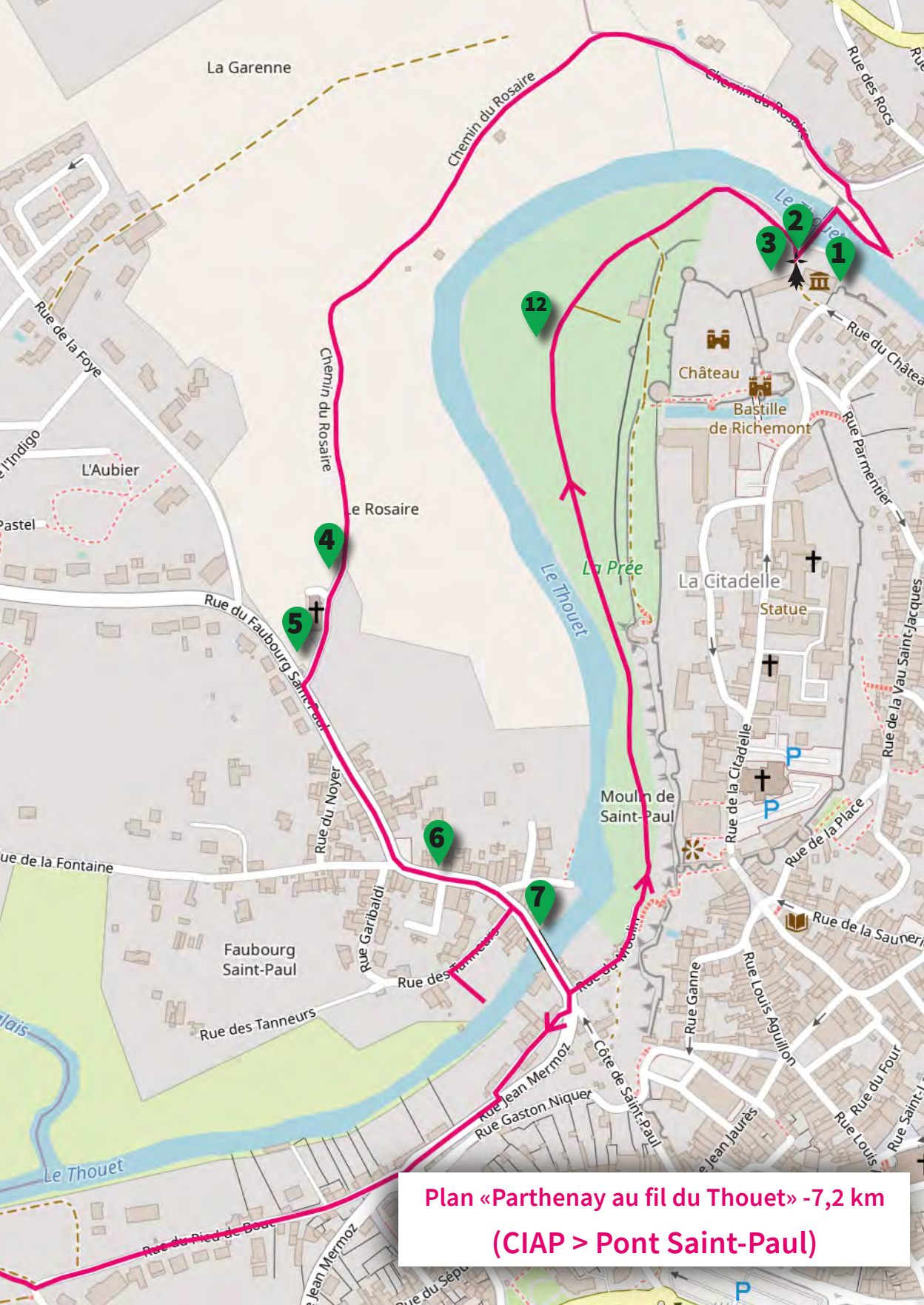
## 12- PALAIS DES CONGRÈS

Quels motifs géométriques se répètent sur la façade du Palais des congrès ?

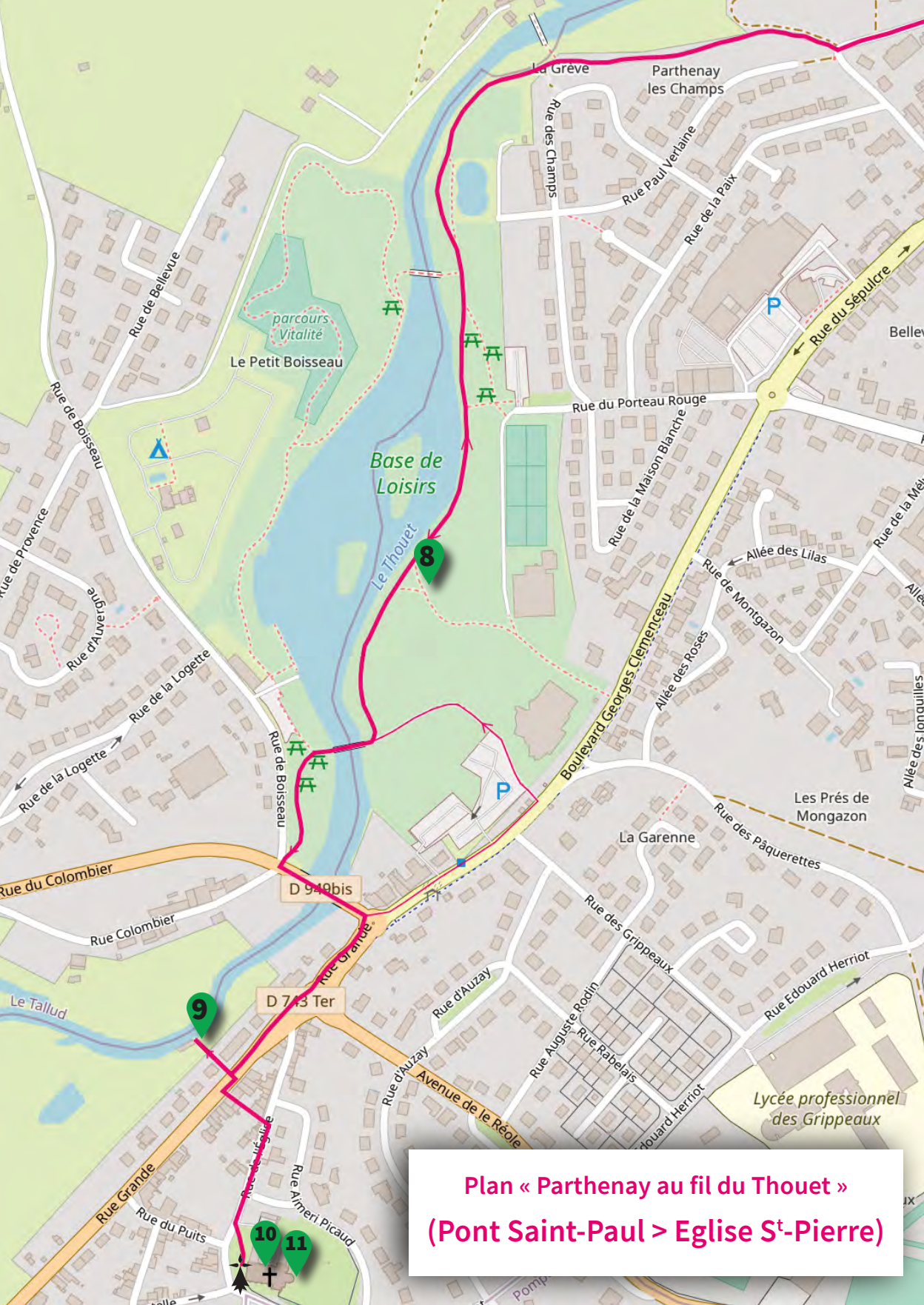
- A- Des carrés       B- Des triangles       C- Des losanges

Ce Palais des congrès, construit en 1970 par les frères Le Sauter, a été labellisé en 2016. Quel est son label ?  
.....





**Plan «Parthenay au fil du Thouet» -7,2 km  
(CIAP > Pont Saint-Paul)**



**Plan « Parthenay au fil du Thouet »  
(Pont Saint-Paul > Eglise St-Pierre)**

# Au fil du Thouet à Parthenay

## 1- MAISON DU PATRIMOINE

Au Moyen Âge se trouvait ici un moulin à blé, qui a été transformé au XIX<sup>e</sup> siècle en minoterie. Quel ingrédient était donc produit ici avant ? .....

À quel label est lié le Centre d'interprétation de l'architecture et du patrimoine (CIAP) situé au rez-de-chaussée du bâtiment ?

- A- Monument Historique (MH)       B- Musée de France       C- Pays d'art et d'histoire (PAH)

## 2- MAISON DU PATRIMOINE

Combien d'étages comporte la Maison du patrimoine ? .....

Parmi ces usages, quels sont ceux que ce bâtiment a eus au fil du temps ? (Plusieurs réponses possibles)

- A- Moulin à foulon       B- Minoterie  
 C- Usine hydroélectrique       D-Ébénisterie

## 3- CIAP - EXPOSITION VITRAIL

Dans l'exposition « Le vitrail, l'art de la couleur », trouve le panneau consacré à la couleur rouge. Quel animal est rouge sur le vitrail présenté ici ? .....

Quel maître-verrier a réalisé les vitraux de l'église des Cordeliers à Parthenay ?

- A- Lucien-Léopold Lobin       B- Jean-Jacques Fanjat       C- Gustave-Pierre Dagrant

## 4- CHEMIN DU ROSAIRE (Panorama cité fortifiée)

Depuis le chemin du Rosaire, tu peux profiter de très beaux points de vue sur la cité médiévale de Parthenay. Combien de clochers aperçois-tu ? .....

Comment s'appelle le quartier situé au sommet de l'éperon rocheux, dans le prolongement du château ?

- A- Le quartier Sainte-Croix       B- Le quartier Saint-Jacques       C- Le quartier de la Citadelle



## 5- CHAPELLE DU ROSAIRE

Comment appelait-on autrefois les quartiers situés hors des remparts de la ville, comme le quartier Saint-Paul où tu arrives ?

- A- Des villages       B- Des faubourgs       C- Des banlieues

Une confrérie du Rosaire s'est installée ici au XVII<sup>e</sup> siècle. À quoi fait référence ce nom « Rosaire » ? (Plusieurs réponses possibles)

- A- Aux roses associées à la Vierge Marie  
 B- Aux roses anciennes cultivées à Parthenay  
 C- Au chapelet portant ce nom utilisé pour réciter des prières

## 6- L'ÉGLISE SAINT-PAUL

Combien comptes-tu de modillons sculptés sous la corniche, sur la façade de cette ancienne église ? .....

Quels animaux sont représentés sur le chapiteau situé à gauche du portail ?

- A- Des serpents       B- Des lions       C- Des aigles



## 7- PONT SAINT-PAUL, Rue des Tanneurs

Comment appelle-t-on les artisans qui transformaient autrefois des peaux d'animaux en cuir sur cette berge du Thouet ? .....

Multiplie par 5 le nombre d'arches que comporte le pont Saint-Paul pour savoir combien de mois environ étaient nécessaires autrefois pour tanner une peau ? .....

## 8- BASE DES LOISIRS

Le plan d'eau de la base des loisirs a été aménagé dans les années 1980 dans le lit du Thouet. Quelle espèce de canards est la plus courante ici ?

- A- Canard colvert       B- Canard à collier noir       C- Canard des Bahamas (brun à joues blanches)

À blé, à foulon ou à tan, quelles constructions jalonnaient autrefois le cours du Thouet ? .....

## 9- LAVOIR DE PARTHENAY-LE-VIEUX

À quoi servait ce lieu autrefois ?       A- Se laver       B- Laver les animaux       C- Laver le linge

Quels sont les spécificités de ce lavoir ? (Plusieurs réponses possibles)

- A- Il utilise l'eau d'une source.  
 B- Il est aménagé au bord d'une rivière.  
 C- Il présente un plancher mobile pour s'adapter au niveau de l'eau.

## 10- L'ÉGLISE SAINT-PIERRE (Façade)

Quel animal très aimé aujourd'hui, considéré comme maléfique au Moyen Âge, est sculpté sur cette façade ? Des têtes de cet animal y forment une frise...

- A- Le chien       B- Le chat       C- Le lapin

Quelle figure légendaire est évoquée à travers les personnages féminins représentés au-dessus de l'arcade aveugle de gauche ?

- A- La fée Viviane       B- La fée Mélusine       C- La fée Morgane



## 11- L'ÉGLISE SAINT-PIERRE (Façade)

Quel personnage sculpté décore l'arcade aveugle située à gauche, en partie basse de cette façade ?

- A- Un cavalier       B- Un roi       C- Un ange

Le clocher de cette église a servi de modèle pour plusieurs autres clochers d'églises de Gâtine.

Quelle est sa forme ?       A- Carrée       B- Hexagonale       C- Octogonale



## 12- LA PRÉE

Comment se nomme cette ouverture qui était utilisée par les soldats pour tirer des flèches depuis la tour de la Poudrière ?       A- Une archère       B- Une canonnière  
 C- Un assommoir

Pourquoi le château fort est-il construit sur une hauteur ? (Plusieurs réponses possibles)

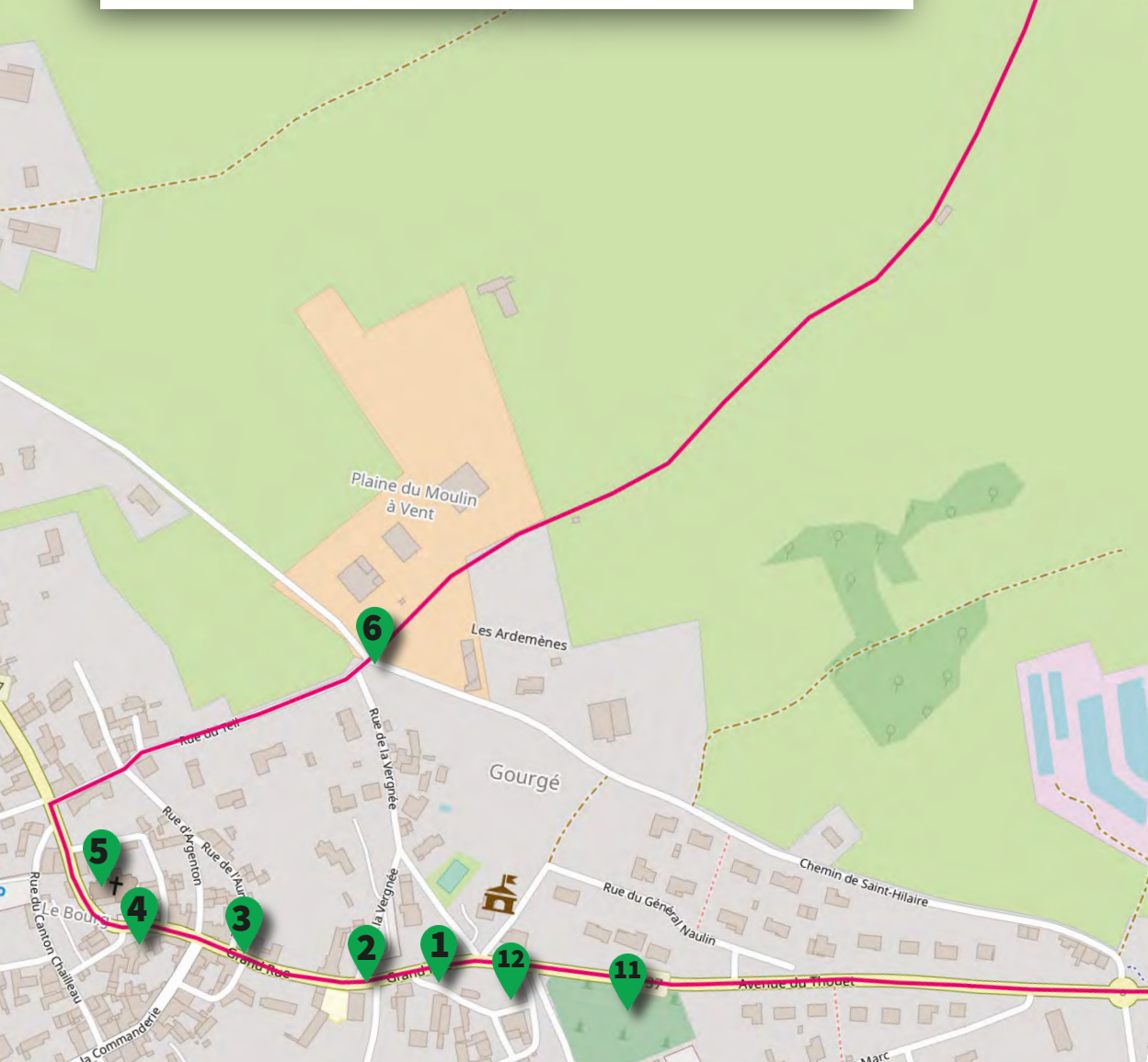
- A- Pour guetter au loin la venue d'ennemis  
 B- Pour montrer la domination du seigneur  
 C- Pour faciliter la défense du lieu  
 D- Pour protéger le seigneur des mauvaises odeurs

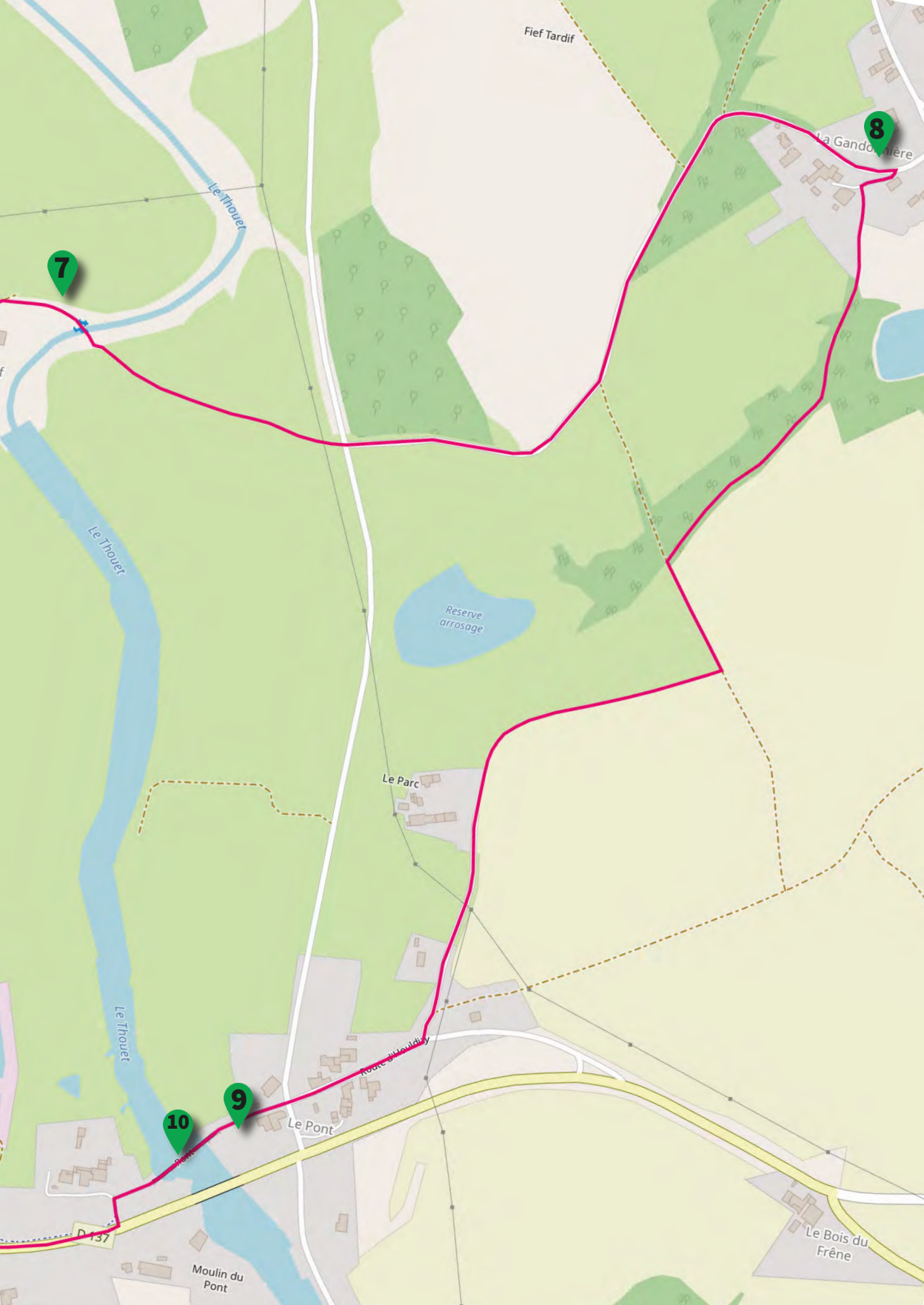


## Plan « Gourgé au fil du temps » - 4,5 km

Un document d'information intitulé « Gourgé pas à pas » est disponible à la mairie et sur le site internet de la commune. Vous y trouverez les réponses à plusieurs questions de niveau difficile.

Et si vous souhaitez plus de renseignements sur le patrimoine local, flashez avec votre smartphone les QR codes présents sur les lieux pour accéder à des fiches d'information !





Fief Tardif

La Gandoitière

7

8

Le Thouet

Le Thouet

Reserve arrosage

Le Thouet

Le Parc

Route d'entretien

10

9

Le Pont

D 137

Moulin du Pont

Le Bois du Frêne

# Gourgé au fil du temps



## 1- ANCIENNE POSTE

Quel matériau orange est visible sur la façade de l'ancien bureau de poste, construit en 1906-1908 ? .....

Quel décor met en valeur ses fenêtres ?

- A- Des moulures       B- Des chaînages de pierre       C- Des pilastres

## 2- LOGIS DE LA VERGNÉE

Construit à la fin du Moyen Âge, le logis de la Vergnée présente en façade une grande tour qui renferme un escalier en vis. Quelle forme a cette tour ?

- A- Ronde       B- Carrée       C- Polygonale

Quel hôte prestigieux a été accueilli dans ce logis en 1569, après avoir participé à la bataille de Moncontour contre les armées protestantes ?

- A- Le roi François I<sup>er</sup>       B- Le duc d'Anjou, futur roi Henri III  
 C- Le roi Henri IV       D- Le roi Charles IX



## 3- ANCIEN ATELIER

Quel artisan travaillait autrefois dans ce bâtiment ?

- A- Un forgeron       B- Un tisserand       C- Un teinturier

Quels étaient ses principaux outils ? (Plusieurs réponses)

- A- Marteau       B- Tournevis       C- Enclume       D- Pincés (ou tenailles)

## 4- ÉGLISE SAINT-HILAIRE (Extérieur)



Fais le tour de l'église Saint-Hilaire, et retrouve l'archère visible sur cette photographie. Sur quelle partie de l'édifice se trouve-t-elle ?

- A- Le chevet       B- Le clocher       C- La nef


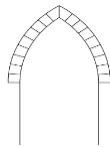
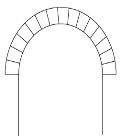
Les parties basses du chevet constituent les éléments les plus anciens que conserve cette église. Quand cette église a-t-elle été construite ?

- A- Aux IX<sup>e</sup> et X<sup>e</sup> siècles       B- Aux X<sup>e</sup> et XI<sup>e</sup> siècles       C- Au XI<sup>e</sup> siècle

## 5- ÉGLISE SAINT-HILAIRE (Intérieur)

Dans l'église, cherche ce décor représentant une tête d'homme entre des démons. Quel type d'arc surmonte ce chapiteau sculpté ?

- A- Un arc en plein cintre       B- Un arc brisé       C- Un arc outrepassé



À qui appartient ce blason peint sur l'un des piliers de la nef ?

- A- Aux seigneurs de Parthenay       B- Aux seigneurs de Châtillon  
 C- À Philippe de Comynes       D- Aux seigneurs de Saint-Loup



## 6- SITE ARCHÉOLOGIQUE, ancienne voie romaine

Vous êtes sur le Chemin de Saint-Hilaire, dont le tracé correspond à celui d'une ancienne voie romaine. Quelles villes étaient reliées par cette voie?

- A- Bordeaux et Nantes                       B- Poitiers et Nantes                       C- Poitiers et Tours

Des fouilles archéologiques ont permis de découvrir ici un atelier de potier, un temple, ou encore de la vaisselle. De quelle époque date le vicus (petite agglomération) qui se trouvait ici ?

- A- Gallo-romaine                       B- Mérovingienne                       C- Carolingienne

## 7- GUÉ DE MOULIN NEUF

Combien de pierres composent ce gué permettant de traverser le Thouet ? .....

Auprès de quel type de bâtiment ont généralement été aménagés les gués ?

- A- Moulin                       B- Forge                       C- Tannerie

## 8- POINT DE VUE - HAMEAU DE LA GANDONNIÈRE

Depuis ce point, tu profites d'un beau panorama sur le bourg de Gourgé. Quel monument est situé le plus haut ? .....

Autour du bourg, les paysages sont bocagers. Pourquoi les haies qui séparent les parcelles sont-elles importantes à préserver ? (Plusieurs réponses possibles)

- A- Elles servent d'abri aux animaux.                       B- Elles favorisent la biodiversité.  
 C- Elles freinent l'érosion des sols.                       D- Elles produisent des fruits et du bois de chauffage.

## 9- PONT ROMAN

Combien d'arches possède ce pont construit au XII<sup>e</sup> siècle ? .....

Lors de sa restauration dans les années 1990, le pavage originel de la chaussée a été découvert sous différentes couches de pierre. À partir de quelle année ce pont a-t-il cessé d'être emprunté, après la construction du nouveau pont ?     A- 1861                       B- 1961                       C- 1981

## 10- MOULIN DU PONT

L'ancien moulin du Pont est une rare construction de ce type à avoir encore une roue (reconstruite en 1991). Que produisait autrefois ce moulin ? .....

En quelle année ce moulin, devenu minoterie, a-t-il cessé de fonctionner ?

- A- 1886                       B- 1927                       C- 1966

## 11- CROIX HOSANNIÈRE

La croix hosannière visible dans le cimetière date du XII<sup>e</sup> siècle. Combien de colonnes en granite comporte-t-elle ? .....

En quelle année a-t-elle été classée Monument Historique ?

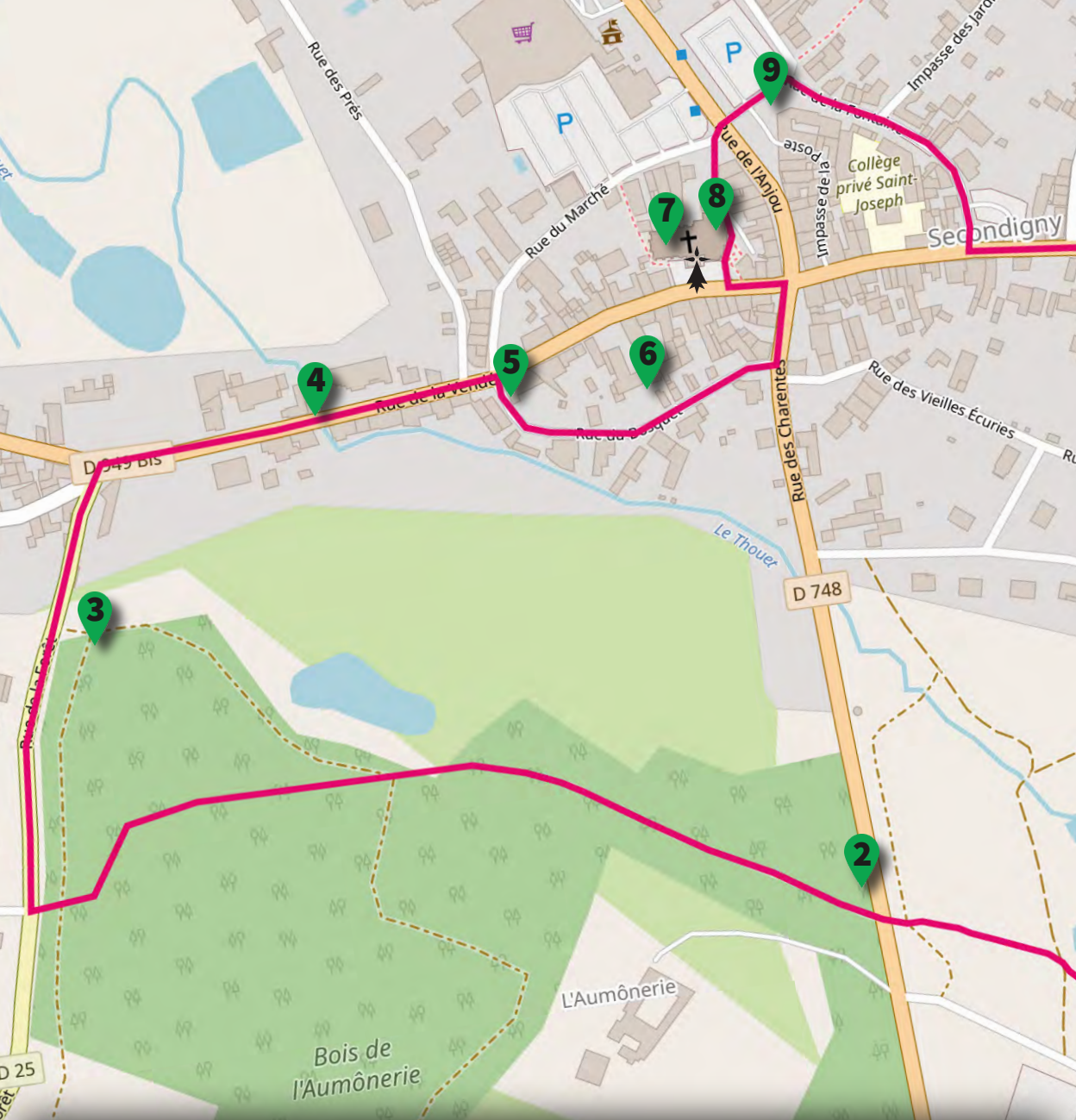
- A- 1890                       B- 1910                       C- 1930

## 12- CHAPELLE NOTRE-DAME-DE-PITIÉ ET ANCIEN PRESBYTÈRE

Quelle est la forme du vitrail surmontant la chapelle Notre-Dame-de-Pitié, bâtie en 1867 ?

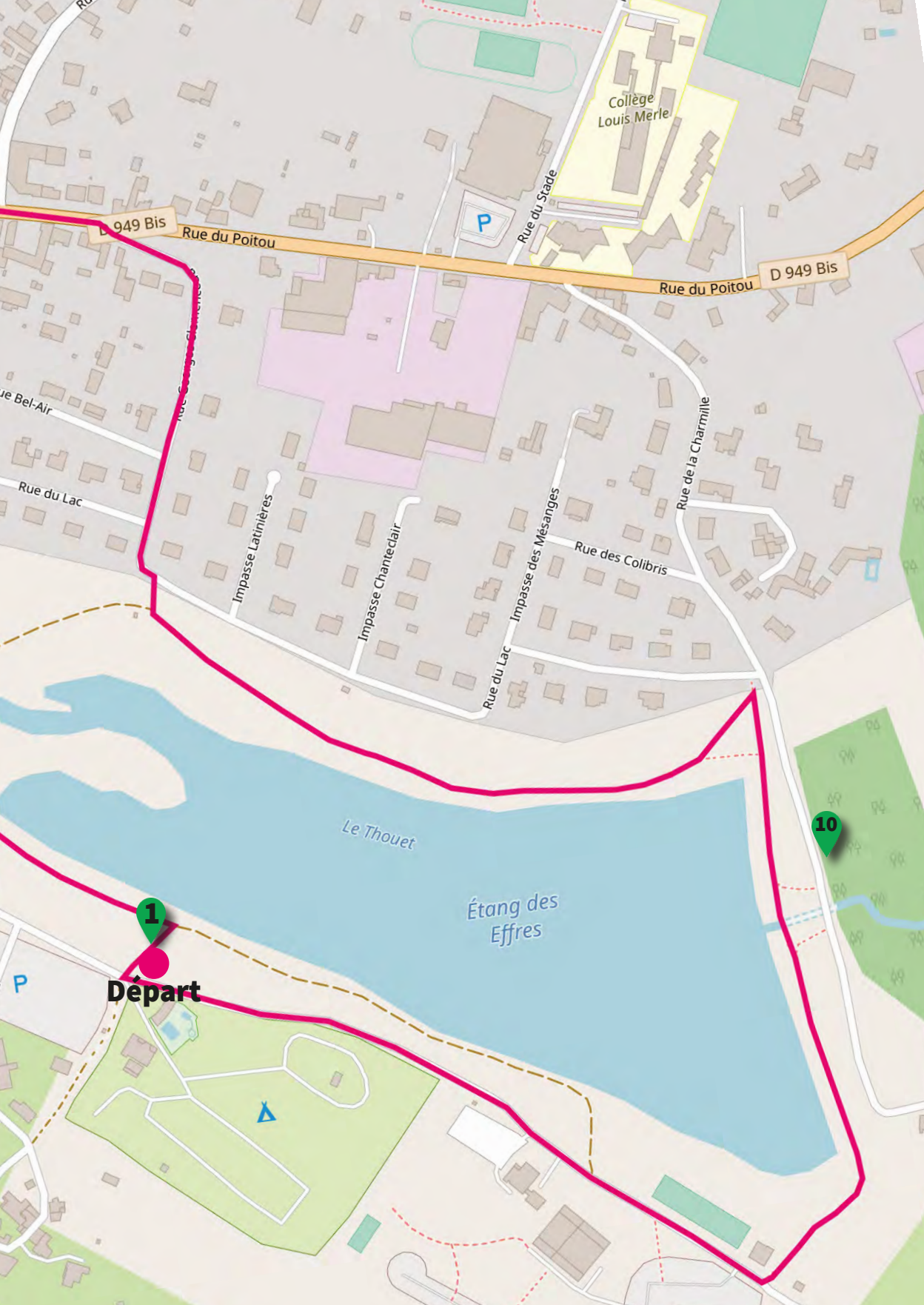
- A- Un rond                       B- Un triangle                       C- Un trilobe

À proximité de cette chapelle se trouve l'ancien presbytère, reconstruit à la fin du XIX<sup>e</sup> siècle. Quelle date est inscrite sur l'une de ses façades ? .....



## Plan « Secondigny, un patrimoine à croquer » - 3,6 km

Une belle balade dans cette « cité de la pomme »,  
à la découverte de son patrimoine naturel et bâti !



Collège  
Louis Merle

D 949 Bis

Rue du Poitou

Rue du Stade

D 949 Bis

Rue du Poitou

Rue du Bel-Air

Rue du Lac

Impasse Latinières

Impasse Chanteclair

Impasse des Mésanges

Rue des Colibris

Rue de la Charmille

Le Thouet

Étang des  
Effres

1

Départ

10

P

▲

# Secondigny, un patrimoine à croquer

## 1- PLAN D'EAU DES EFFRES

Dans le lit de quelle rivière ce plan d'eau a-t-il été aménagé en 1976 ?

- A- Le Thouet                       B- Le Palais                       C- La Sèvre nantaise

De quel fleuve cette rivière est-elle un affluent ?

- A- La Loire                       B- La Charente                       C- La Dordogne



## 2- BOIS DE L'AUMÔNERIE

Dans le bois de l'Aumônerie, trouve un arbre ayant des feuilles comme celle-ci. De quelle espèce s'agit-il ?

- A- Châtaignier                       B- Chêne  
 C- Noisetier                       D- Frêne



Lorsqu'un arbre de cette espèce présente un tronc court, une « tête » et une couronne de branches, c'est qu'il fait l'objet d'une taille spécifique régulière permettant de fournir du bois de chauffage. Comment est-il alors appelé ?

- A- Arbre têtard                       B- Arbre étêté                       C- Arbre têtû

## 3- LAVOIR DE LA FORÊT

Dans ce lavoir se trouvent des barres en bois. À quoi servaient-elles autrefois ?

- A- À poser ses vêtements avant d'aller se baigner.  
 B- À poser le linge venant d'être lavé.  
 C- Elles étaient utilisées par des danseuses.

Quels sont les spécificités de ce lavoir ? (Plusieurs réponses possibles)

- A- Il utilise l'eau d'une source.  
 B- Il est aménagé au bord d'un ruisseau.  
 C- Il présente un plancher mobile pour s'adapter au niveau de l'eau.  
 D- C'est un lavoir sur retenue, le niveau de l'eau est réglé par une vanne.



## 4- ANCIENNE GARE TDS

D'après la photographie ancienne, qu'était autrefois ce bâtiment ?

- A- Un moulin                       B- Une usine                       C- Une gare

Que désignait autrefois le sigle TDS ?

- A- Tramways des Deux-Sèvres                       B- Tortillards des Deux-Sèvres  
 C- Trains Déraillant Souvent



## 5- LAVOIR DU BOURG

Cet ancien lavoir utilise l'eau de la rivière qui traverse Secondigny, et auprès de laquelle tu as débuté ce parcours. Comment s'appelle cette rivière ? .....

À la fin du XIX<sup>e</sup> siècle, à la suite de l'aménagement de nombreux lavoirs, quelle était la fréquence du lavage du linge ?


- A- Tous les ans                       B- Tous les mois                       C- Toutes les semaines

## 6- RUE DU BOSQUET

Dans la rue du Bosquet, trouve ce détail visible sur une grande bâtisse. Il s'agit d'une corniche génoise, élément décoratif fréquent en Gâtine.

De quel pays est originaire ce type de décor nommé génoise ?

- A- Angleterre                       B- Italie                               C- Allemagne



## 7- L'ÉGLISE SAINTE-EULALIE (Extérieur)

Trouve ce chapiteau situé sur l'un des deux portails de l'église. Où se trouve-t-il exactement ?

- A- À gauche du portail situé à l'ouest.  
 B- À droite du portail situé à l'ouest.  
 C- À gauche du portail situé au sud, sous le porche-ballet.

Quelles sont les particularités du clocher de cette église ? (Plusieurs réponses possibles)

- A- Il est de forme octogonale.  
 B- Il est doté d'éléments défensifs.  
 C- Il est situé sur le bras sud du transept, donc excentré.

## 8- L'ÉGLISE SAINTE-EULALIE (Intérieur)

Trouve ce joueur de pipeau sculpté dans l'église.

Parmi les peintures visibles dans l'église, trouve le blason des seigneurs de Parthenay. Lequel est-ce parmi ces propositions ?

- C                       A                       B
- 
- 
- 



## 9- FONTAINE, rue de l'Anjou

Cette fontaine rappelle que Secondigny est une « cité de la pomme ». Comment s'appelle un terrain sur lequel sont cultivés des arbres fruitiers ?

- A- Un potager                       B- Un verger                               C- Un pré

Quelle authentique pomme de Gâtine est la variété emblématique cultivée sur ce territoire ? (Indice : Son nom viendrait des « clos », petites parcelles fermées par des haies.)

- A- La Golden                       B- La Reine des Reinettes                       C- La Reinette Clochard

## 10- PLAN D'EAU DES EFFRES

Parmi ces animaux, lesquels habitent le Thouet et ses berges ?

- A- La loutre                       B- Le castor  
 C- Le brochet                       D- Le saumon

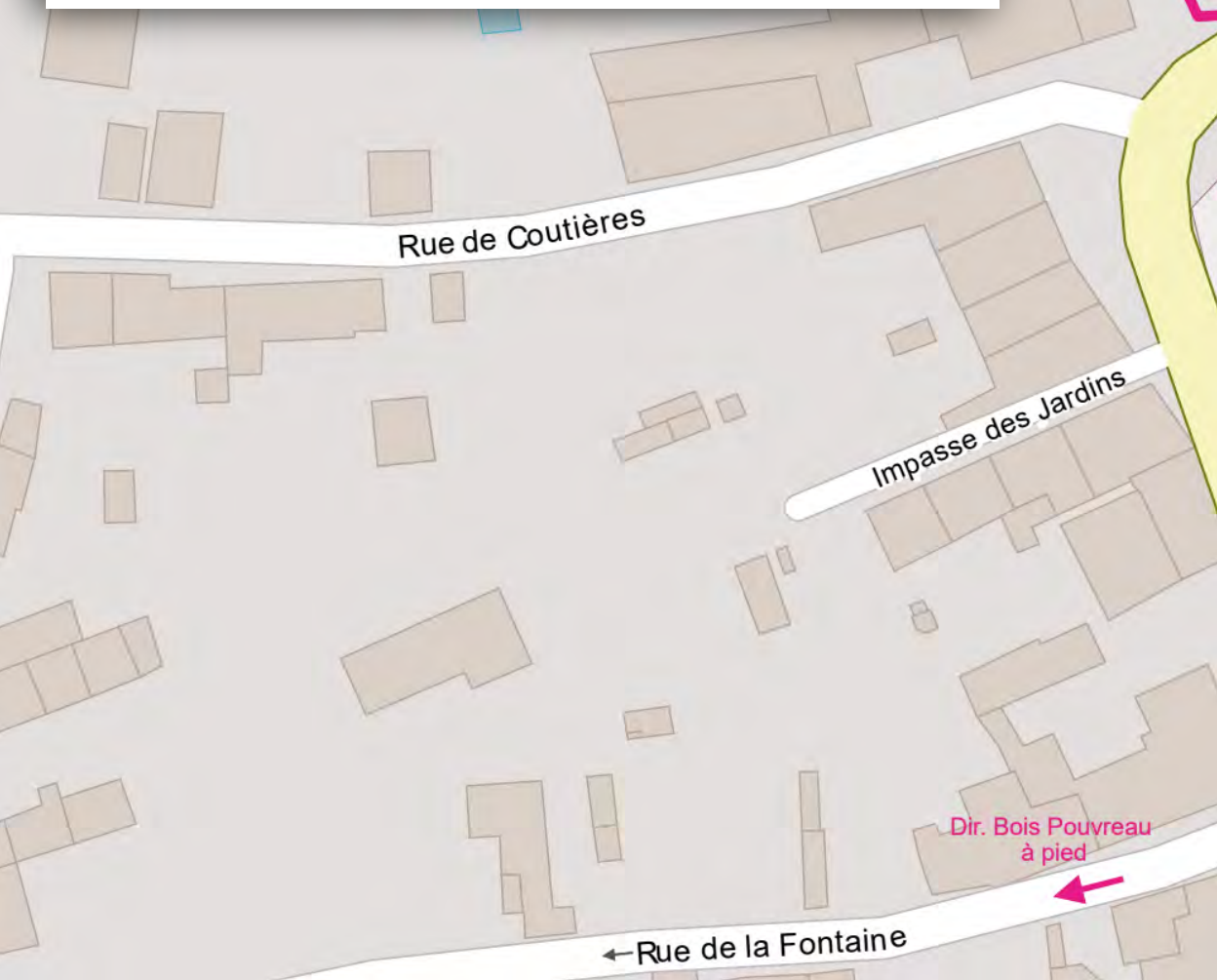
À Secondigny, le Thouet alimentait autrefois 18 moulins à eau dont 3 à foulons. Que foulait ces moulins ?

- A- Des cuirs                               B- Des tissus en laine                               C- Des tissus en lin

## Plan « Le patrimoine de Ménigoute à vol d'oiseau » - 500 m

Une brochure d'information patrimoniale, intitulée « PARCOURS Ménigoute » est disponible à la mairie, ainsi qu'à Parthenay (Office de tourisme et CIAP) et sur le site internet de la Communauté de communes. Vous y trouverez les réponses à plusieurs questions de niveau difficile.

Un parcours Terra Aventura© vous est proposé en complément à Bois Pouvreau (à 2 km du bourg) !





Rue de Parthenay

Place de la Mairie

Place de la Mairie

Rue de la Trésorerie

D 21

Rue de Saint-Maixent

Place des Cloîtres

Croix Hosannière

Place des Cloîtres

Place des Cloîtres

Musée Cantonal

Dir. Bois Pouvreau en voiture



# Le patrimoine de Ménigoute à vol d'oiseau

## 1- SALLE ROMANE

Au-dessus du portail de cette ancienne église, plusieurs motifs ont été sculptés. Combien y a-t-il de têtes de félins ?.....

Qu'y a-t-il aujourd'hui à l'intérieur de cette salle Romane ? (Plusieurs réponses possibles)

- A- Une salle de cinéma
- B- Une bibliothèque
- C- Une salle de conférences et d'expositions



## 2- ÉGLISE NOTRE-DAME

Quel matériau a été utilisé pour couvrir le clocher de l'édifice ?

- A- De la tuile
- B- De l'ardoise
- C- Du bois

Qui fait construire cette église, autrefois collégiale Saint-Jean-Baptiste, au XIV<sup>e</sup> siècle ?

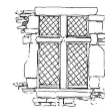
- A- Jean de Cherchemont, chancelier du roi de France
- B- Hugues II de Parthenay-Larchevêque, seigneur de Parthenay
- C- Le roi Charles V

## 3- PLACE DES CLOÎTRES

Depuis cette place, tu aperçois un vitrail de l'église Notre-Dame.

Quelle est la forme de la fenêtre occupée par ce vitrail ?

- A- Une fenêtre en plein cintre
- B- Une fenêtre en arc brisé
- C- Une fenêtre rectangulaire



Quel a été l'usage de cet endroit autrefois ? (Plusieurs réponses possibles)

- A- Un lieu de marché
- B- Un cimetière de chanoines
- C- Un jardin


## 4- CROIX HOSANNIÈRE

Ce décor est visible sur les différentes faces du monument. À quelle plante ce décor peut faire penser ?

- A- Une rose
- B- Une marguerite
- C- Un trèfle

Une inscription en haut de la croix indique qu'elle a été restaurée au XVI<sup>e</sup> siècle. En quelle année exactement ?

- A- 1529
- B- 1534
- C- 1576





## 5- CHÂTEAU BOUCARD

Combien de tours comporte le château Boucard ? .....

Quels ont été les usages de ce bâtiment (Plusieurs réponses possibles)

- A- Un logis pour le trésorier du chapitre collégial
- B- Un musée
- C- Un hospice



## 6- CHAPELLE BOUCARD

Trouve cette gargouille parmi toutes celles visibles sur cette chapelle.

Dans quel style architectural a été construite la chapelle Boucard ?

- A- Gothique primitif
- B- Gothique rayonnant
- C- Gothique flamboyant

## 7- CHAPELLE BOUCARD

En dessous de cette gargouille, tu peux voir un être fantastique sculpté. De quoi s'agit-il ?

- A- Un dragon
- B- Une sirène
- C- Une licorne

En quelle année cette chapelle a-t-elle été classée Monument historique ?

- A- 1862
- B- 1889
- C- 1984

## 8- CHÂTEAU D'EAU

Plusieurs oiseaux ont été peints sur ce château d'eau pour évoquer le Festival international du film ornithologique (FIFO).

Combien en comptes-tu ?

- A- 8
- B- 9
- C- 10

Quels types d'oiseaux sont représentés ? (Plusieurs réponses possibles).

- A- Grue cendrée
- B- Canard colvert
- C- Héron cendré
- D- Chouette effraie



# Solutions

## Promenade de santé à Parthenay

### Niveau facile

1. A et E - 2. L'automne - 3. Six - 4. Deux - 5. Six - 6. N° 37 - 7. A - 8. Gris - 9. C - 10. A, B et D - 11. La mélisse - 12. Deux

### Niveau difficile

1. Notre-Dame-de-la-Couldre - 2. Edouard Knoepflin - 3. Trois - 4. D - 5. B - 6. Pavillon Bertin. - 7. C - 8. B - 9. B - 10. A - 11. C - 12. B.

## Parthenay, de rues en venelles

### Niveau facile

1. B - 2. A - 3. Poirier - 4. Trois. Il regarde vers le passé, le présent, et le futur. - 5. C - 6. B - 8. A - 9. B - 10. Place du Donjon - 11. B - 12. C.

### Niveau difficile

1. C - 2. B - 3. B - 4. 2006 - 5. A - 6. C - 7. B - 8. B - 9. C - 10. A - 11. Ardoise - 12. Patrimoine du XX<sup>e</sup> siècle

## Au fil du Thouet à Parthenay

### Niveau facile

1. Farine - 2. Trois - 3. Un dragon - 4. Trois (clochers de l'église Sainte-Croix et de l'église Saint-Laurent, clocheton de la porte de la Citadelle) - 5. B - 6. Quatorze - 7. Les tanneurs - 8. A - 9. C - 10. B - 11. A - 12. A.

### Niveau difficile

1. C - 2. B, C et D - 3. B - 4. C - 5. A et C - 6. A - 7. Quinze - 8. Moulins - 9. B et C - 10. B - 11. C - 12. A, B et C.

## Gourgé au fil du temps

### Niveau facile

1. Brique - 2. C - 3. A - 4. A - 5. B - 6. B - 7. Vingt-neuf - 8. L'église - 9. Huit - 10. Farine - 11. Quatre - 12. C.

### Niveau difficile

1. B - 2. B - 3. A, C et D - 4. A - 5. C - 6. A - 7. A - 8. A, B, C et D - 9. B - 10. C - 11. A - 12. 1895.

## Secondigny, un patrimoine à croquer

### Niveau facile

1. A - 2. B - 3. B - 4. C - 5. Le Thouet - 7. B - 9. B - 10. A, B et C.

### Niveau difficile

1. A - 2. A - 3. B et D - 4. A - 5. C - 6. B - 7. A et C - 8. B - 9. C - 10. B.

## Le patrimoine de Ménigoute à vol d'oiseau

### Niveau facile

1. Quatre - 2. B - 3. B - 4. C - 5. Deux - 7. B - 8. B

### Niveau difficile

1. B et C - 2. A - 3. A et B - 4. A - 5. A, B et C - 6. C - 7. A - 8. A, B et C.

*N'hésitez pas à nous faire part  
de votre expérience !*



Pays d'art et d'histoire de Parthenay-Gâtine  
[pah@cc-parthenay-gatine.fr](mailto:pah@cc-parthenay-gatine.fr)

**Office de tourisme de  
Parthenay-Gâtine  
Palais des congrès**

22 boulevard de La Meilleraye  
79200 Parthenay  
Tél. : 05 49 64 24 24

**Centre d'interprétation de  
l'architecture et du  
patrimoine (CIAP)**

28 rue du Château  
79200 Parthenay  
Tél. : 05 49 94 90 63



# « DANS LA VIE, JE NE PERDS JAMAIS. SOIT JE GAGNE, SOIT J'APPRENDS. »

Nelson Mandela

## Laissez-vous conter Parthenay-Gâtine, Pays d'art et d'histoire...

...en compagnie d'un guide-conférencier agréé par le ministère de la Culture et de la Communication. Le guide vous accueille. Il connaît toutes les facettes du Pays d'art et d'histoire de Parthenay-Gâtine et vous donne les clefs de lecture pour comprendre l'échelle d'une place, le développement de la ville au fil de ses quartiers. Le guide est à votre écoute. N'hésitez pas à lui poser vos questions. Si vous êtes en groupe, le Pays d'art et d'histoire de Parthenay-Gâtine vous propose des visites toute l'année sur réservation. Des brochures conçues à votre intention sont envoyées sur demande.

**Le service Patrimoine** coordonne les initiatives du Pays d'art et d'histoire de Parthenay-Gâtine. Il propose toute l'année des animations pour la population locale et pour les scolaires. Il se tient à votre disposition pour tout projet.

## Renseignements & réservations CIAP - Maison du patrimoine

28, rue du château  
79200 PARTHENAY  
Tél. : 05 49 94 90 63  
pah@cc-parthenay-gatine.fr  
www.cc-parthenay-gatine.fr  
www.facebook.com/  
pahparthenaygatine

## Office de tourisme Palais des congrès

22, boulevard de la Meilleraye  
79200 PARTHENAY  
Tél. : 05 49 64 24 24  
www.osezlagatine.com

## Parthenay-Gâtine appartient au réseau national des 184 Villes et Pays d'art et d'histoire

Le ministère de la Culture et de la Communication, direction de l'Architecture et du Patrimoine, attribue l'appellation Villes et Pays d'art et d'histoire aux collectivités locales qui animent leur patrimoine.

